


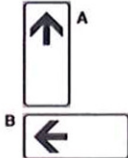







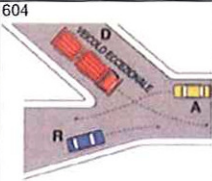
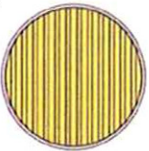


CROCE ROSSA ITALIANA COMITATO CENTRALE

3

Per ciascuna risposta **V** se ritenuta vera **F** se ritenuta falsa

25 	1) In presenza del segnale n. 25, è necessario:		
	1) Fare attenzione ai bambini sulla carreggiata e non a quelli sul marciapiede	V	F
	2) Prestare particolare attenzione per la possibile presenza di bambini	V	F
	3) Tenere presente che è vietato effettuare la sosta	V	F
	2) Dopo un incidente stradale occorre:		
	1) Mettere l'apposito segnale di veicolo fermo, nei casi previsti dal codice	V	F
	2) Mettere il " triangolo" sul lunotto posteriore del veicolo, prima di andare via	V	F
	3) Allontanare al più presto, ove possibile, il veicolo fuori della carreggiata	V	F
	3) Nella fase di sorpasso il conducente è tenuto:		
	1) A lasciare un margine di sicurezza proporzionato alla velocità dei due veicoli	V	F
	2) Avvicinarsi il più possibile al veicolo che precede	V	F
	3) Mantenere in ogni caso la stessa marcia ed accelerare a fondo	V	F
256 	4) Il segnale n. 256:		
	1) Segnala una corsia riservata ad autobus extraurbani	V	F
	2) Indica le fermate degli autobus di pubblico trasporto extraurbani	V	F
	3) Indica una stazione di servizio per autobus	V	F
103 	5) Il segnale n. 103:		
	1) Indica i passaggi consentiti a destra e a sinistra di un'isola di traffico	V	F
	2) Consente ai conducenti di passare sia a destra che a sinistra di un salvagente	V	F
	3) Indica la circolazione rotatoria consentita nei due sensi	V	F
128 	6) Ciascuno dei pannelli integrativi n. 128:		
	1) Indica la corsia preferenziale per i taxi	V	F
	2) Posto sotto un segnale indica la fine della prescrizione	V	F
	3) Posto sotto il segnale di DIVIETO DI SOSTA indica il punto d'inizio	V	F
	7) Si debbono usare gli indicatori di direzione:		
	1) Ogni volta che si deve effettuare una manovra di svolta	V	F
	2) Mai, quando si marcia su una strada a senso unico	V	F
	3) Se si viaggia su strada suddivisa in corsie, prima di cambiarla	V	F
717 	8) Il simbolo rappresentato nella figura n. 717:		
	1) È posto sul comando di accensione delle luci posteriori per nebbia	V	F
	2) Individua una spia luminosa di colore verde	V	F
	3) È posto sul comando di accensione dei fendinebbia anteriori	V	F
	9) Da chi viene decisa la velocità di un'ambulanza?		
	1) Dall'autista	V	F
	2) Da chi si trova vicino al trasportato	V	F
	3) Dall'autista, seguendo le indicazioni dei barellieri	V	F
	10) In caso di incidente, il conducente di ambulanza deve:		
	1) Accompagnare l'infortunato a casa dietro sua espressa richiesta	V	F
	2) Trasportare l'infortunato presso la più vicina casa di cura	V	F
	3) Trasportare l'infortunato presso l'Ospedale di competenza	V	F

Per ciascuna risposta **V** se ritenuta vera **F** se ritenuta falsa

1		1) Il segnale n. 1:	
		1) Presegnala un percorso di montagna	V F
		2) Presegnala un tratto di strada deformata	V F
		2) Gli ammortizzatori scarichi provocano:	
		1) Usura non uniforme del battistrada dei pneumatici	V F
		2) Un anomalo funzionamento del motore	V F
54		3) Il segnale n. 54:	
		1) Vieta la circolazione nei due sensi	V F
		2) Vieta il transito a tutti i veicoli	V F
		4) Lo spazio minimo totale di arresto di un veicolo:	
		1) Diminuisce se aumenta la prontezza di riflessi del conducente	V F
		2) Si ottiene bloccando le ruote	V F
604		5) Nell'incrocio rappresentato in figura n. 604:	
		1) Il veicolo D può passare prima del veicolo R	V F
		2) Il veicolo R può passare per primo	V F
690		6) Il proiettore acceso così come lo si vede nella figura n. 690:	
		1) È a luce abbagliante	V F
		2) Ha un fascio luminoso per illuminare la strada a grande distanza	V F
199		7) Il segnale n. 199:	
		1) Identifica le strade extraurbane	V F
		2) Indica l'uscita n. 55	V F
696		8) Il simbolo rappresentato nella figura n. 696:	
		1) È posto su una spia a luce blu	V F
		2) È posto sul comando dei proiettori anabbaglianti	V F
		9) Durante l'espletamento di un servizio urgente d'istituto, quali dispositivi supplementari devo usare?	
		1) Luci di emergenza accese e lampeggianti blu	V F
		2) Lampeggianti blu, sirena in maniera simultanea e continuativa	V F
		10) Per effettuare una chiamata radio da un mezzo CRI ad una postazione fissa devo?	
		1) Ripetere due volte il mio identificativo e poi quello di chi si chiama	V F
		2) Chiamare prima il codice del chiamato poi la propria sigla	V F
		3) Utilizzare, se conosciuta, la codifica del terminale chiamato	V F



Per ciascuna risposta **V** se ritenuta vera **F** se ritenuta falsa

2		1) Il segnale n. 2:		
		1) Presegnala una cunetta	V	F
		2) Presegnala un tratto di strada deformata	V	F
		3) Presegnala un dosso	V	F
		2) Perché gli organi dello sterzo contribuiscano alla sicurezza della circolazione:		
		1) I pneumatici devono essere tenuti a bassa pressione per aumentare l'aderenza	V	F
		2) Non debbono esistere giochi anomali nel meccanismo dello sterzo	V	F
		3) È necessario guidare il più vicino possibile al volante	V	F
55		3) Il segnale n. 55:		
		1) Consente l'accesso ai motocicli	V	F
		2) Vieta di entrare in una strada accessibile invece dall'altra parte	V	F
		3) Consente l'accesso alle biciclette	V	F
		4) Per arrestare il veicolo nello spazio minimo, bisogna:		
		1) Intervenire con energia sul pedale del freno innestando la marcia più alta	V	F
		2) Caricare il veicolo senza superare la massa massima autorizzata	V	F
		3) Intervenire energeticamente sul pedale del freno, evitando in ogni caso il bloccaggio delle ruote	V	F
606		5) Dovendo attraversare l'incrocio rappresentato in figura n. 606:		
		1) Il veicolo E può transitare per primo	V	F
		2) Il veicolo C può transitare subito dopo il veicolo E	V	F
		3) Il veicolo M può transitare per primo	V	F
694		6) Il proiettore acceso così come lo si vede nella figura n. 694:		
		1) È a luce anabbagliante, ma la lampada è montata in maniera errata	V	F
		2) Ha un fascio luminoso che non colpisce direttamente i veicoli incrociati	V	F
		3) Ha un fascio luminoso per illuminare la strada a grande distanza	V	F
200		7) Il segnale n. 200:		
		1) Identifica un'autostrada	V	F
		2) Può integrare un segnale di preavviso di diramazione autostradale	V	F
		3) Può essere incluso in un segnale di preselezione per bivio autostradale	V	F
695		8) Il simbolo rappresentato nella figura n. 695:		
		1) È posto sul comando dei proiettori di profondità	V	F
		2) È il simbolo di una spia luminosa di colore verde	V	F
		3) Indica il comando di accensione delle luci di profondità	V	F
		9) Cosa si deve fare alla guida di un'ambulanza durante un servizio urgente, all'intimazione di ALT da parte delle forze dell'ordine?		
		1) Occorre fermarsi	V	F
		2) Non si è tenuti a fermarsi	V	F
		3) Si può proseguire il servizio e la polizia potrà seguire l'ambulanza	V	F
		10) Come si deve comportare un conducente di ambulanza quando i pedoni tardano a scansarsi?		
		1) Deve azionare i dispositivi di allarme senza aumentare la velocità	V	F
		2) Deve fermarsi solo se i pedoni sono su un attraversamento pedonale	V	F
		3) Deve in ogni caso rallentare e all'occorrenza fermarsi	V	F