


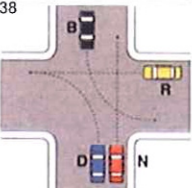











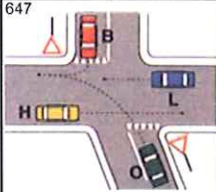


Per ciascuna risposta **V** se ritenuta vera **F** se ritenuta falsa

11 	1) Il segnale DOPPIA CROCE DI S. ANDREA (figura n. 11):		
	1) È posto a 150 metri dal passaggio a livello	V	F
	2) Invita a fare attenzione perché potrebbe arrivare un altro treno su un altro binario	V	F
	3) Indica che la linea ferroviaria ha solo due binari	V	F
	2) La distanza di sicurezza di un veicolo rispetto a quello che lo precede deve essere:		
	1) Valutata in relazione alle condizioni atmosferiche	V	F
	2) Tale da evitare collisioni con i veicoli che precedono	V	F
	3) Di almeno 100 metri in caso di nevicata in atto	V	F
62 	3) Il segnale n. 62:		
	1) Si può trovare all'imbocco di una passerella pedonale	V	F
	2) Consente il transito agli autoveicoli	V	F
	3) Vieta il traffico ai ciclomotori	V	F
161 	4) I segnali luminosi della figura n. 161:		
	1) Si accendono soltanto uno per volta	V	F
	2) Indicano le velocità consigliate anche a semaforo spento	V	F
	3) Indicano di procedere con prudenza se a luce lampeggiante gialla	V	F
638 	5) Nell'incrocio rappresentato nella figura 638, il conducente del veicolo B:		
	1) Ha la destra libera, in relazione alla sua destinazione	V	F
	2) Deve impegnare per ultimo l'incrocio perché svolta a sinistra	V	F
	3) Può concludere la manovra di svolta a sinistra dopo il transito del veicolo N	V	F
96 	6) Il segnale n. 96:		
	1) Preavvisa che non è consentito proseguire dritto o svoltare a sinistra	V	F
	2) È un segnale di indicazione	V	F
	3) Può essere integrato con un pannello che indica la distanza dal punto in cui vige l'obbligo	V	F
706 	7) Il simbolo rappresentato in figura n. 706:		
	1) È posto sulla spia di controllo del livello olio nella coppa del motore	V	F
	2) Posto su una spia accesa, indica l'eccessiva temperatura dell'olio motore	V	F
	3) È posto su un dispositivo che dà indicazioni sulla pressione del lubrificante nel motore	V	F
	8) La sospensione della patente è disposta:		
	1) Quando il titolare affidi la guida del proprio veicolo a chi è privo di patente	V	F
	2) Quando si circola abusivamente con un veicolo sottoposto a sequestro	V	F
	3) Quando siano violate le disposizioni sull'equipaggiamento dei veicoli con cinture di sicurezza	V	F
	9) Un'ambulanza che provenga da sinistra ha la precedenza?		
	1) Sì, sempre	V	F
	2) La chiede solo quando ha in funzione i segnali di allarme	V	F
	3) No, in nessun caso	V	F
	10) Durante il trasporto di un malato, è consentito al barelliere di sedere accanto all'autista?		
	1) Sì, se il malato non è grave ed è accompagnato da parenti	V	F
	2) No, mai	V	F
	3) Sì, se il malato non è in pericolo di vita	V	F

Per ciascuna risposta **V** se ritenuta vera **F** se ritenuta falsa

42 	1) Il segnale n. 42:		
	1) Può presegnalare un incrocio a T, in cui bisogna dare la precedenza	V	F
	2) È un preavviso di dare la precedenza sia a destra che a sinistra	V	F
	3) Indica la distanza dal prossimo segnale di stop	V	F
	2) Su strade extraurbane principali il limite massimo di velocità è di:		
	1) 100 Km/h per autocarri di massa complessiva fino a 3,5 t	V	F
	2) 110 Km/h per autoveicoli adibiti al trasporto di persone o cose fino a 3,5 t	V	F
	3) 100 Km/h per motocicli	V	F
284 	3) Il segnale di figura n. 284:		
	1) È di direzione obbligatoria per autotreni ed autoarticolati	V	F
	2) Preavvisa "direzione obbligatoria" per autocarri in transito	V	F
	3) Obbliga tutti i veicoli a proseguire dritto	V	F
203 	4) Il segnale n. 203 si può trovare:		
	1) In un tratto di strada che collega il comune ad una frazione	V	F
	2) Per segnalare una strada a due corsie delimitate sulla carreggiata	V	F
	3) Ad integrazione di segnali di direzione	V	F
654 	5) Nella situazione rappresentata in figura n. 654:		
	1) Il veicolo A deve attendere il transito del veicolo H	V	F
	2) Il veicolo A deve attendere il transito dei veicoli C ed R	V	F
	3) I veicoli transitano nel seguente ordine: C, R, A, H	V	F
	6) In caso di strada sdrucchiolevole il conducente deve:		
	1) Percorrere le forti discese con il cambio in folle, controllando la velocità tramite il freno	V	F
	2) Aumentare la distanza di sicurezza dal veicolo che lo precede	V	F
	3) Cercare di procedere a velocità quanto più possibile moderata e uniforme	V	F
	7) La sospensione della patente è disposta:		
	1) Quando il titolare di patente speciale, guida veicoli con adattamenti diversi da quelli prescritti	V	F
	2) Qualora sorgano dubbi sulla persistenza dell'idoneità alla guida	V	F
	3) Qualora il titolare guidi con patente la cui validità sia scaduta	V	F
	8) In relazione al contratto di assicurazione R.C.A. stipulato, l'impresa assicuratrice deve rilasciare al contraente:		
	1) Un manuale completo sulle cautele da osservare per evitare incidenti	V	F
	2) Il certificato di assicurazione da esibire a richiesta assieme alla carta di circolazione	V	F
	3) Un attestato annuo relativo allo stato di rischio	V	F
	9) Alla guida di un'ambulanza, è possibile il sorpasso a destra?		
	1) Sì, in alcuni casi particolari	V	F
	2) Sì, sempre	V	F
	3) No, mai	V	F
	10) Giungendo sul luogo dell'incidente, qual è il compito dell'equipaggio?		
	1) L'autista compila il rapportino, mentre il barelliere presta i primi soccorsi	V	F
	2) L'autista parcheggia il mezzo nel modo più idoneo per il soccorso, mentre il barelliere provvede a valutare la situazione e iniziare il soccorso	V	F
	3) L'autista provvede a valutare la situazione, mentre il barelliere attende i suoi ordini	V	F

Per ciascuna risposta **V** se ritenuta vera **F** se ritenuta falsa

9		1) In presenza del segnale n. 9:	
		1) È necessario rallentare per poter arrestare il veicolo prima dell'attraversamento ferroviario	V F
		2) È possibile attraversare i binari anche se sbarrati da cavalletti a strisce bianche e rosse	V F
		3) È necessario rallentare in relazione alla visibilità che presenta il passaggio a livello	V F
126		2) Il pannello integrativo di figura n. 126:	
		1) Posto sotto il segnale SENSO VIETATO consente l'accesso alla sola categoria di veicoli indicata	V F
		2) Posto sotto il segnale PARCHEGGIO indica un'area destinata alla sosta dei veicoli indicati	V F
		3) Può integrare un segnale di divieto	V F
78		3) Il segnale n. 78:	
		1) Consente il transito di una macchina agricola di massa a pieno carico pari a 7 t	V F
		2) Vieta il transito ai soli autoveicoli per trasporto merci di massa superiore a 7 t	V F
		3) Si può trovare prima di un ponte	V F
		4) L'autostrada:	
		1) È aperta alla circolazione dei motocicli aventi cilindrata di 125 cc	V F
		2) È riservata alla circolazione di alcune categorie di veicoli a motore	V F
		3) È aperta alla circolazione dei motocicli con cilindrata di almeno 150 cc	V F
647		5) Secondo le norme di precedenza nell'incrocio rappresentato in figura n. 647:	
		1) Il veicolo O può transitare prima del veicolo H, ma dopo il veicolo B	V F
		2) Il veicolo B transita prima del veicolo O e dopo i veicoli L e H	V F
		3) Il veicolo O può impegnare l'incrocio per primo e si ferma al centro di esso	V F
521		6) Due strisce bianche discontinue che attraversano la carreggiata indicano (figura n. 521):	
		1) Attraversamento per pedoni	V F
		2) Attraversamento ciclabile obliquo	V F
		3) Precedenza	V F
102		7) Il segnale 102 significa:	
		1) Passaggio obbligatorio a destra	V F
		2) Che non è consentito superare l'ostacolo a sinistra	V F
		3) Che non è possibile proseguire su quella strada	V F
		8) È obbligatorio dare la precedenza a destra e a sinistra:	
		1) Quando si impegna una zona soggetta a circolazione rotatoria	V F
		2) Negli incroci regolati da semaforo a luce gialla lampeggiante	V F
		3) Quando si svolta a sinistra	V F
		9) Quante persone è possibile trasportare su un'ambulanza?	
		1) Un numero tale da non superare quanto stabilito dall'omologazione del mezzo	V F
		2) Una o due	V F
		3) Tante quante ne consente la capienza del mezzo	V F
		10) Il paziente in imminente pericolo di vita rifiuta il trasporto:	
		1) Avvisiamo le forze dell'ordine	V F
		2) Lo costringiamo a salire in ambulanza	V F
		3) Lo lasciamo dov'è e rientriamo in sede	V F