



CROCE ROSSA ITALIANA COMITATO CENTRALE



Nuove schede a quiz di preparazione per
l'esame al conseguimento della Patente




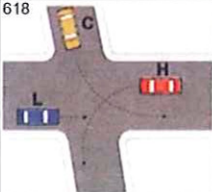

CRI mod. 138/05



CROCE ROSSA ITALIANA COMITATO CENTRALE



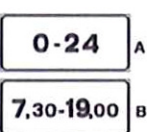


1

Per ciascuna risposta **V** se ritenuta vera **F** se ritenuta falsa

	1) La distanza di sicurezza di un veicolo rispetto al veicolo che precede deve essere:		
	1) Tale da evitare collisioni con i veicoli che precedono	V	F
	2) In relazione al numero di corsie sulla strada	V	F
	3) Di almeno 100 mt. nelle forti discese	V	F
	2) In caso di pioggia occorre:		
	1) Evitare l'appannamento dei vetri	V	F
	2) Impiegare con prudenza gli indicatori di direzione	V	F
	3) Manovrare con prudenza lo sterzo	V	F
40	 3) Il segnale n. 40:		
	1) Ha valore quando il semaforo funziona a luce lampeggiante	V	F
	2) Può essere preceduto dal preavviso DARE PRECEDENZA	V	F
	3) Lungo le autostrade è posto a distanza di 150 mt. dall'area di servizio	V	F
26	 4) Il segnale n. 26:		
	1) Presegnala una zona riservata al pascolo con divieto di transito ai veicoli a motore	V	F
	2) Presegnala la possibilità di trovare sulle strade animali vaganti	V	F
	3) Presegnala una strada di campagna	V	F
109	 5) Il segnale n. 109:		
	1) Indica la fine del percorso pedonale	V	F
	2) Indica la fine di un' area riservata ai pedoni	V	F
	3) È un divieto di transito dei pedoni	V	F
618	 6) È consentito attraversare l'incrocio in figura n. 618 secondo l'ordine:		
	1) Per primo il veicolo H, poi il veicolo C, per ultimo il veicolo L	V	F
	2) Per primo il veicolo L, poi quello C, per ultimo H	V	F
	3) Il veicolo C, dopo il veicolo L, ma prima del veicolo H	V	F
718	 7) Il simbolo rappresentato nella figura 718:		
	1) È posto sul comando di accensione delle luci posteriori per nebbia	V	F
	2) È posto sul comando di accensione dei fendinebbia anteriori	V	F
	3) Individua una spia luminosa di colore giallo	V	F
	8) I catadiottri:		
	1) Sono dispositivi a luce riflessa	V	F
	2) Debbono essere accesi mezz'ora dopo il tramonto del sole	V	F
	3) Possono essere anteriori, laterali e posteriori	V	F
	9) Quante persone si possono trasportare su un' ambulanza?		
	1) Il numero di persone indicate sulla carta di circolazione	V	F
	2) In base al numero di sedili presenti sul mezzo	V	F
	3) Secondo il numero dei sedili del mezzo più un bambino	V	F
	10) La sosta del mezzo sulla strada, durante l'espletamento di un servizio urgente d'istituto deve essere?		
	1) Atta a garantire una rapida ripartenza verso l'ospedale	V	F
	2) Nel rispetto della segnaletica presente sul posto	V	F
	3) Congrua da scagionare eventuali rischi dinamici del luogo	V	F



Per ciascuna risposta **V** se ritenuta vera **F** se ritenuta falsa

84 	1) Il segnale n. 84:		
	1) Consente la sosta nel tratto precedente	V	F
	2) Opportunamente integrato, può vietare la sosta, nei centri abitati dalle 0 alle 24	V	F
	3) Può sempre comportare la rimozione del veicolo	V	F
302 	2) Il pannello a strisce diagonali alternate bianche e rosse (fig. 302):		
	1) Deve essere posto alle due estremità del carico se sporge per tutta la larghezza del veicolo	V	F
	2) Può essere posto sui veicoli in avaria quando vengono trainati	V	F
	3) Di notte può essere sostituito da una luce rossa fissa	V	F
123 	3) Il segnale n. 123:		
	1) Indica l'intervallo di lunghezza dei veicoli per i quali è vietato transitare	V	F
	2) Indica la distanza di sicurezza minima e massima tra i veicoli	V	F
	3) Posto sotto il segnale DIVIETO DI SOSTA indica la fascia di ore di esenzione	V	F
	4) Su tutte le strade (e loro pertinenze) è vietato:		
	1) Danneggiare le opere e gli impianti che ad esse appartengono	V	F
	2) Accedere con le ruote dei veicoli sporche di fango	V	F
	3) Transitare nelle zone riservate al parcheggio	V	F
	5) La distanza di sicurezza:		
	1) È la minima che si deve mantenere dal veicolo che ci precede	V	F
	2) Dipende dalla velocità del veicolo che segue	V	F
	3) È sempre uguale alla distanza di visibilità	V	F
17 	6) Il segnale n. 17:		
	1) Richiede di mantenere una maggior distanza di sicurezza dal veicolo che ci precede	V	F
	2) Indica l'entità della pendenza di una salita ripida	V	F
	3) Presegnala un tratto di strada da percorrere a motore spento	V	F
565 	7) Con la segnaletica orizzontale indicata in figura n. 565:		
	1) La corsia B consente di proseguire dritto e svoltare a sinistra	V	F
	2) Solo la corsia C consente di effettuare la svolta a destra	V	F
	3) Solo la corsia A consente di effettuare la svolta a sinistra	V	F
	8) Durante la marcia, l'uso delle luci di posizione è sufficiente:		
	1) Di notte quando manca l'illuminazione pubblica	V	F
	2) Nelle gallerie extraurbane non sufficientemente illuminate	V	F
	3) Di giorno, nelle gallerie urbane sufficientemente illuminate	V	F
	9) Durante l'espletamento di un servizio urgente si accende la spia della pressione dell'olio, cosa si deve fare?		
	1) Si prosegue portando a termine il servizio in corso	V	F
	2) Ci si ferma alla prima officina per fare controllare il mezzo	V	F
	3) Si fa intervenire un'altra unità di soccorso prima di ogni altra manovra	V	F
	10) È possibile trainare un'ambulanza?		
	1) Sì, sempre	V	F
	2) Sì, quando non ci sono malati a bordo, rispettando le norme del codice	V	F
	3) No, mai	V	F